


Zagadka 1.

Ile prostokątów znajduje się na rysunku???



Odpowiedź do zagadki 1.

18

Zagadka 2.

Dodaj tylko jedną kreskę, aby poniższe równanie było prawdziwe.

$$30 + 70 = 510$$


Odpowiedź do zagadki 2.

$$30 + 70 = 510$$

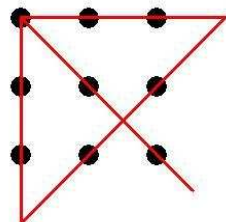
$$30 + 70 \neq 510$$

### Zagadka 3.

Narysuj cztery proste odcinki bez odrywania ręki, żeby połączyć nimi wszystkie 9 kótek. Linie mają być zerowej grubości i idealnie proste o dowolnej długości.



Odpowiedź do zagadki 3.



Zagadka 4.

Skreśl z poniższego ciągu znaków **trzyście liter**, a  
otrzymasz hasło:

btrrawzoynazaśmcyielślietneire

Odpowiedź do zagadki 4.

**BRAWO ZA MYŚLENIE**



Zagadka 5.

Według jakiego klucza ułożone są cyfry:

4291857630

Odpowiedź do zagadki 5.

pisane słowami, ułożone są alfabetycznie.

